




Projekt współfinansowany przez Unię Europejską w ramach Europejskiego Funduszu Społecznego.


Karta pracy – Temperatura

Zadanie 1

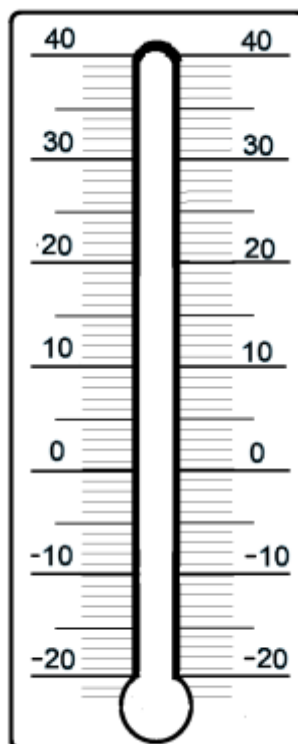
Zaznacz na termometrach podane temperatury:



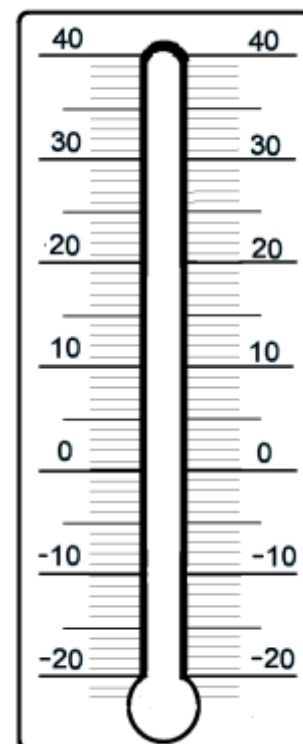
7°C



12°C



16°C




20°C






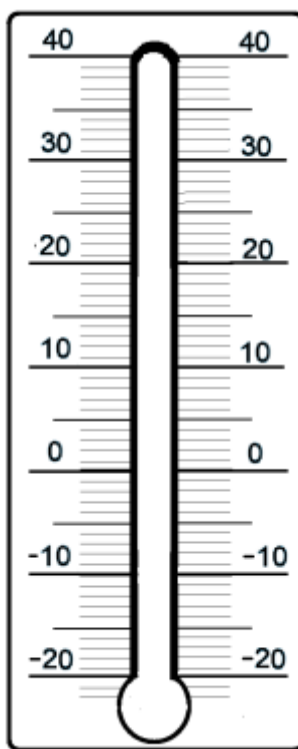
Projekt współfinansowany przez Unię Europejską w ramach Europejskiego Funduszu Społecznego.



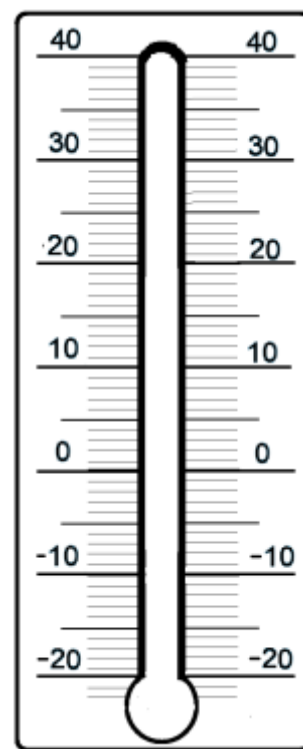
-3°C



-8°C



-14°C



-17°C

Zadanie 2

Synoptycy określający pogodę przez 4 dni mierzyli temperaturę powietrza w różnych miastach. Oto ich pomiary.

Dni:	Kraków	Warszawa	Gdańsk
dzień 1	16°C	14°C	13°C
dzień 2	19°C	11°C	18°C
dzień 3	17°C	13°C	16°C
dzień 4	18°C	12°C	15°C

- a) Porównaj temperatury w poszczególnych miastach i wpisz do tabeli miejsca najcieplejsze i najchłodniejsze w danym dniu:



Dni:	Miejsce najcieplejsze:	Miejsce najchłodniejsze:
dzień 1		
dzień 2		
dzień 3		
dzień 4		

Dni:	Miasta:	Różnica temperatur
dzień 1	Kraków – Gdańsk	
dzień 2	Gdańsk - Warszawa	
dzień 3	Kraków - Warszawa	
dzień 4	Gdańsk – Kraków	



UNIA EUROPEJSKA
EUROPEJSKI
FUNDUSZ SPOŁECZNY



Rano: °C. Wieczorem o: °C więcej.

[illegible][illegible]